



Défi maths cycle 2

n°8





Les coccinelles


Cinq coccinelles se retrouvent autour d'une salade pour la manger. Elles n'ont pas toutes le même nombre de points sur leurs ailes. Au bout d'un moment, deux coccinelles s'envolent. Titouan compte les points sur les ailes des coccinelles qui restent. Il en trouve 10.

Trouve les deux coccinelles qui se sont envolées.

A




E



B



C



D