



Un portrait géométrique

En te servant des questions et des réponses OUI ou NON, trouve de quel solide il s'agit.

Écris son nom à la ligne réponse.

1. A-t-il 12 arêtes? OUI
A-t-il 8 sommets? OUI
Toutes ses faces sont-elles des rectangles? OUI

C'est le solide n° :

2. Toutes ses faces ont-elles la même forme?..... OUI
A-t-il 8 sommets? NON
A-t-il 6 arêtes? OUI

C'est le solide n° :

3. A-t-il des faces triangulaires? OUI
A-t-il 6 sommets? NON
A-t-il 8 arêtes? OUI

C'est le solide n° :

4. A-t-il 6 faces? OUI
A-t-il des faces rectangulaires?..... NON
A-t-il des faces triangulaires? OUI

C'est le solide n° :



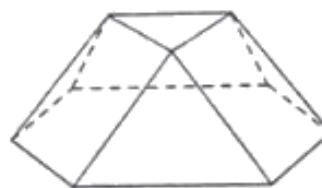
1



2



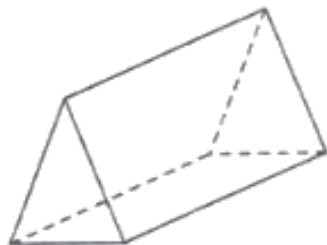
3



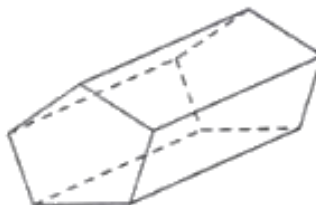
4



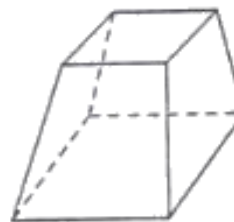
5



6



7



8