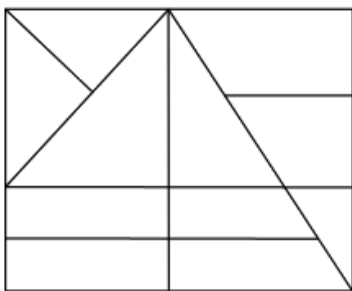




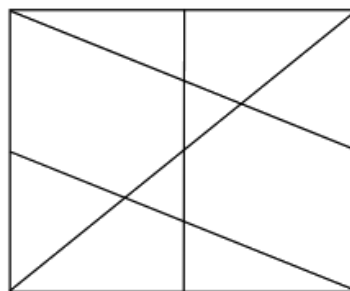
## Les triangles (2)

Jules assure que c'est son rectangle qui contient le plus de triangles.

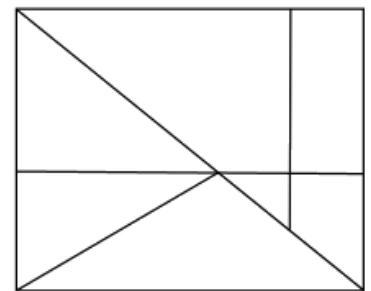
Pouvez-vous vérifier et dire combien de triangles contient chaque rectangle ?



Rectangle de  
Jules



Rectangle de  
Marie



Rectangle de  
Sofiane

Pour vous aider, en voici plusieurs...

