





Défi maths cycle 2

n°1

A l'eau !




Avec 4 verres, on remplit une carafe.



Avec 2 carafes, on remplit une casserole.



Avec 2 casseroles, on remplit un seau.



Combien faut-il de verres pour remplir un seau ???