



Défi maths cycle 2

n°16




Mais qui est le coupable ??

Hier soir, une personne est entrée dans le bureau de Mme Cap et a volé tous les bonbons dans son tiroir !!!

La voisine, qui a vu le coupable raconte :

« J'ai vu un homme à lunettes qui porte un chapeau. Il a une moustache mais n'a pas de barbe. »

Aide Mme CAP à retrouver le voleur !

			
Albert	Arthur	Achille	Arsène
			
Anatole	Aristide	André	Adrien