



# Défi maths cycle 1

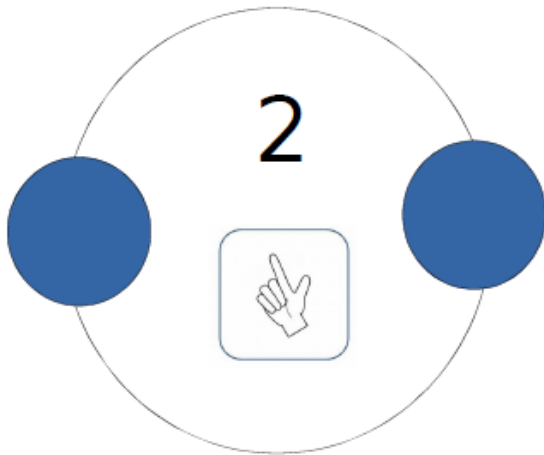
n°7

## Les colliers

### Niveau 1

Chaque perle a une valeur (1 nombre de 1 à 3) et le nombre inscrit à l'intérieur du collier correspond à la somme des valeurs des perles.

Construis l'autre collier avec les perles.



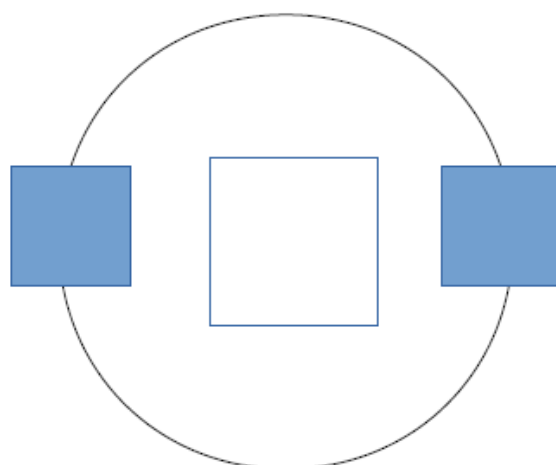
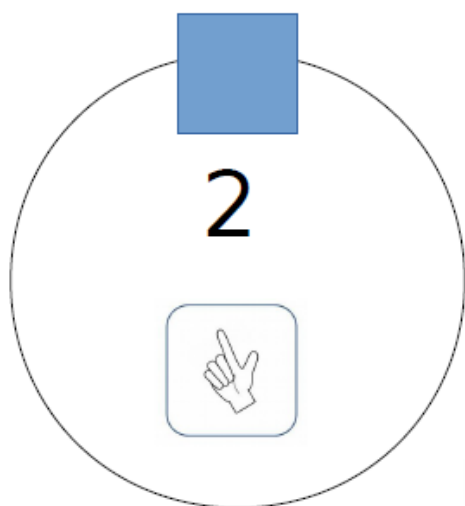
## Niveau 2

Attention, c'est un enjeu important que de comprendre qu'un carré vaut 2 (comprendre la différence entre valeur et quantité)

### Les colliers

Chaque perle a une valeur (1 nombre de 1 à 3) et le nombre inscrit à l'intérieur du collier correspond à la somme des valeurs des perles.

Choisis la constellation de doigts qui convient.



Niveau 3

### Les colliers

Chaque perle a une valeur (1 nombre de 1 à 3) et le nombre inscrit à l'intérieur du collier correspond à la somme des valeurs des perles.

Construis plusieurs colliers différents avec les perles.

