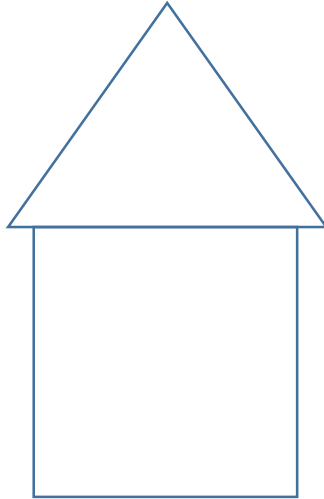





Défi maths cycle 1

n°20


Avec un carré et un triangle, on peut fabriquer une maison.



Il y a des triangles de 3 couleurs différentes et des carrés de 3 couleurs différentes.



Il faut fabriquer le plus de maisons possibles !!



Combien de maisons différentes avez-vous fabriquées ?

Matériel :

- des triangles de 3 couleurs différentes
- des carrés de 3 couleurs différentes
- des supports de papier pour coller les maisons
- de la colle